

Vorname

Name

Klasse



## Wettbewerbs-Aufgaben **Schul-/Gruppensieger/-in**

**Klasse  
7-10**

### DEUTSCHLAND

1. Kreuzfahrtschiffe, die auf dem kürzesten Weg von St. Petersburg nach Hamburg gelangen wollen, fahren durch die gesuchte künstliche Wasserstraße. Notiere ihren Namen.
2. Die gesuchte niedersächsische Stadt wurde durch die Legende vom Rattenfänger weltbekannt. Schreibe ihren Namen auf.
3. Am Nordrand der Deutschen Mittelgebirge liegen Landschaften, deren Böden sehr fruchtbar sind und hauptsächlich für den Anbau von Weizen und Zuckerrüben genutzt werden. Nenne den Fachbegriff für diese Landschaften.
4. Bodensee, Chiemsee, Schweriner See und Wannsee sind bekannte Seen in Deutschland.
  - a) Gib an, welcher See nicht in diese Aufzählung gehört und
  - b) begründe kurz deine Entscheidung.
5. Kaum eine andere menschliche Tätigkeit hat unsere Landschaft so verändert wie der Abbau der Braunkohle. Nach dessen Aufgabe müssen daher umfangreiche Verbesserungsmaßnahmen ergriffen werden, um die betroffenen Regionen in ein neues ökologisches Gleichgewicht zu versetzen. Nenne den Fachbegriff für diese Maßnahmen.

Nord - Ostsee - Kanal

Hameln

Börde (n)

Bodensee

- a) 

Am Bodensee haben auch andere
- b) 

Staaten einen Anteil

Rekultivierung

## EUROPA

6. Die Farben der französischen und niederländischen Flagge sind gleich, und trotzdem unterscheiden sie sich. Beschreibe einen Unterschied.

Farben sind anders angeordnet  
(waagrecht - senkrecht)

7. Gib an,

a) welcher der folgenden Staaten aufgrund seiner räumlichen Lage nicht in die Reihe gehört:

Kroatien – Montenegro – Serbien – Slowenien, und

b) begründe deine Antwort.

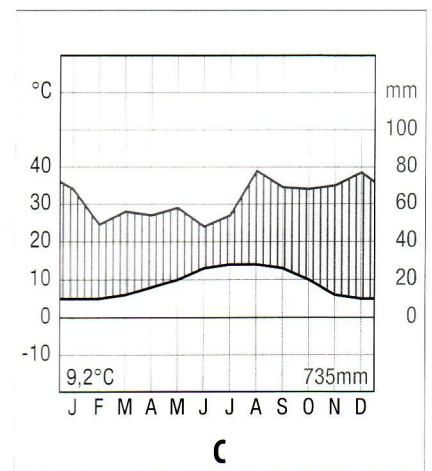
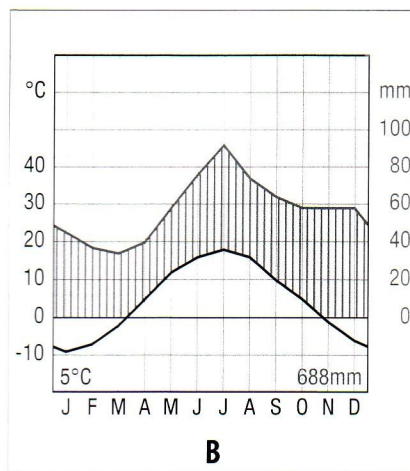
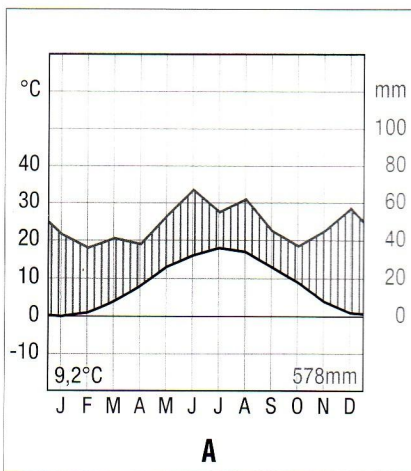
a) Serbien

b) Serbien ist ein Binnenstaat

die anderen sind Küstenstaaten

8. Die drei Klimadiagramme stammen von unterschiedlichen Städten in Europa, die alle ungefähr auf demselben Breitenkreis liegen. Ordne die Klimadiagramme von West nach Ost.

C – A – B



Diagrammtyp nach Walter/Lieth

9. Das „Schengener Abkommen“ besagt, dass unter anderem keine Grenzkontrollen zwischen den EU-Staaten erfolgen sollen. Nenne den Staat, der Mitte 2011 beschlossen hat, wieder stichprobenartige Grenzkontrollen einzurichten.

Dänemark

10. *Think blue. Run blue!* Seit einigen Jahren sorgt ein großer deutscher Autohersteller dafür, mit dem Pflanzen von Bäumen das während des Marathonlaufes in Madrid freigesetzte CO<sub>2</sub> zu kompensieren. Schreibe den Namen des Unternehmens auf.

Volkswagen / VW

## WELT

11. Gesucht wird der Name der Insel mit dem wohl bekanntesten Stadtteil von New York City, der zugleich ein bedeutendes Handels- und Finanzzentrum ist. Nenne ihn.

Manhattan

---

12. Als „Arabischen Frühling“ bezeichnet man die im Dezember 2010 beginnenden Aufstände in der arabischen Welt. Kreuze an, in welchem Land die Unruhen ihren Anfang nahmen:

Ägypten    Libyen    Marokko    Tunesien

13. Weltberühmt wurde der gesuchte Staat durch seine Habana-Zigarrenproduktion. Er gehört aber auch zu den bedeutenden Zuckerherstellern in der Welt. Schreibe den Namen des Landes auf.

Kuba

---

14. Im letzten Jahr wurde Japan von einem schweren Erdbeben getroffen, das eine große Flutwelle auslöste und weite Teile des Landes verwüstete. Der dadurch ausgelöste Tsunami zerstörte ein Kernkraftwerk nahezu vollständig und löste einen Atomalarm aus. Nenne den Standort des Kraftwerkes.

Fukushima

---

## ALLGEMEINE GEOGRAPHIE

15. Nenne die Bezeichnung für eine natürliche Quelle, deren durchschnittliche Wassertemperatur höher als die mittlere Jahrestemperatur des Ortes ist, an dem sie zutage tritt. Oftmals wird darüber ein Heilbad errichtet.

Thermalquelle oder Therme

---

16. Gib die Bezeichnung für Agrarprodukte an, die in Entwicklungsländern ausschließlich für den Export bestimmt sind und nicht der Eigenversorgung dienen.

Cash Crops

---

17. Landschaften, die von zerklüfteten Kalksteinen, Dolinen und Höhlen geprägt sind, bezeichnet man als ... -Landschaften. Vervollständige mit dem Fachbegriff.

Karst

---

18. Eine staatliche Ausfuhrsperr für Waren bezeichnet man als .... (Ergänze)

Embargo

---

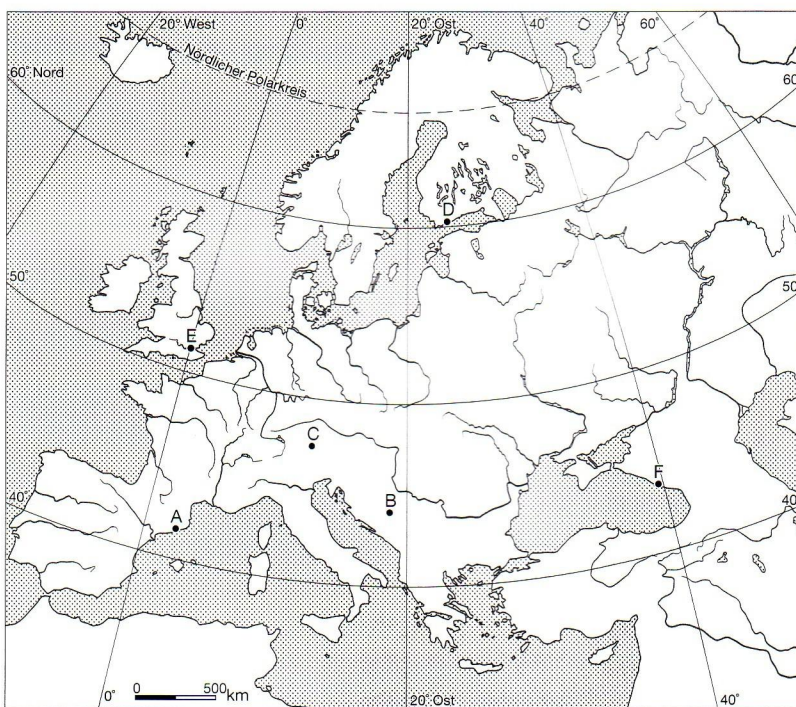
19. Vom Todesstreifen zum Naturschutzprojekt „Grünes Band“: Der Bereich entlang der einstigen innerdeutschen Grenze entwickelte sich zu einem Rückzugsgebiet für vom Aussterben bedrohte Tier- und Pflanzenarten. Gib an, welches der Neuen Bundesländer mit 763 km den größten Anteil an diesem Band hat.

Thüringen

### KARTENAUFGABE

20. „Dabei sein ist alles“ – Während die Olympischen Spiele in der Antike stets in Griechenland stattfanden, werden die Spiele der Neuzeit jeweils in einer anderen Stadt ausgetragen. 2012 finden in London die nächsten Olympischen Sommerspiele statt.

- (1) Benenne die in der Karte eingetragenen Olympiastädte:



- A: Barcelona (1992)  
 B: Sarajewo (1984)  
 C: Innsbruck (1964/1976)  
 D: Helsinki (1952)  
 E: London (1908/1948)

- (2) Die nächsten Olympischen Winterspiele finden 2014 in der Stadt F statt.

a) Notiere den Namen der Stadt.

a) Sotchi

b) Gib an, in welchem Gebirge der Austragungsort liegt.

b) Kaukasus